



دانش آموز عزیز شما می توانید پاسخنامه امتحان را دو ساعت پس از پایان امتحان در پورتال مدرسه ملاحظه نمایید.

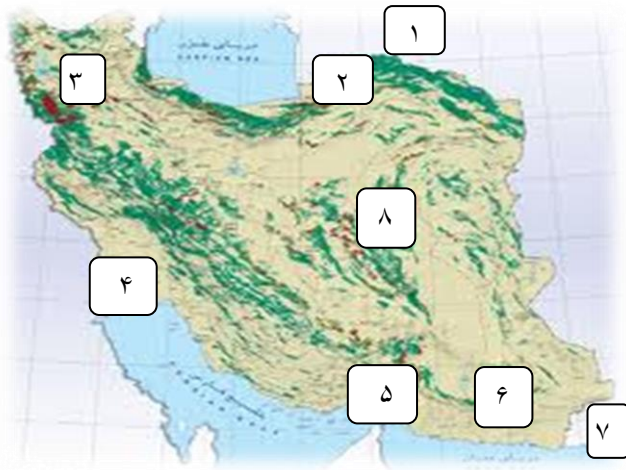
www.bagheralolum.sch.ir

مقام معظم رهبری (مد ظله العالی):

جغرافیا یک جهان بینی صحیح است که مناسبات ماراباجهان اطرافمان و باین همه موجودات کوچک و بزرگ، جاندار و بی جان روشن می نماید

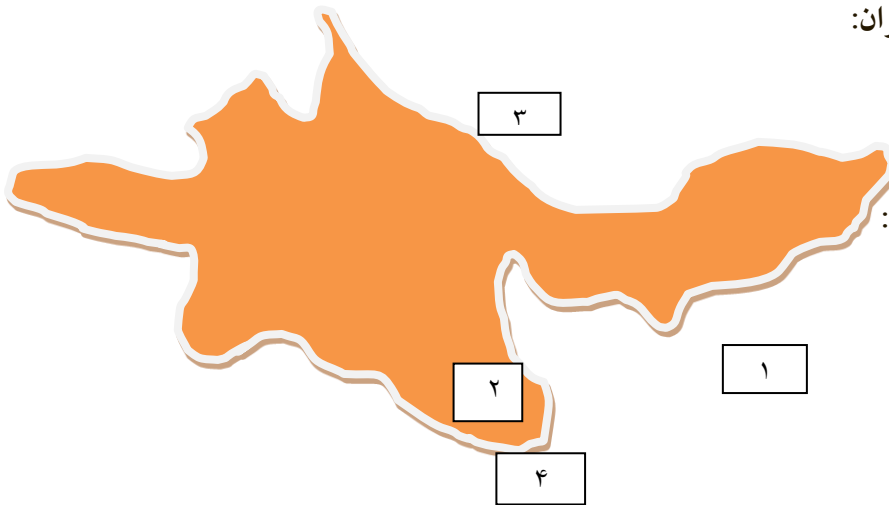
ردیف	سوال	بارم
جغرافیای ایران		
۱	در علم جغرافیا مکان به چه معناست؟ با مثال توضیح دهید؟	۱
۲	روش مطالعه در جغرافیا چیست؟	۰/۵
۳	مثالی در مورد تدوین فرضیه بنویسید؟	۱
۴	مهم ترین روش های میدانی جمع آوری اطلاعات را نام ببرید؟ (ذکر دومورد الزامی است)	۰/۵
۵	موقعیت نسبی ایران رایبان نموده و بنویسید چرا ایران از موقعیت ممتازی برخوردار است؟	۱
۶	اهمیت منطقه خلیج فارس و تنگه هرمز را بنویسید؟ (۲مورد کافی است)	۰/۵
۷	عوامل تغییر شکل ناهمواری های ایران بعد از کواترنر را بنویسید؟ (۲مورد کافی است)	۱
۸	با توجه به چه عواملی می توان کوهستان های ایران را تقسیم بندی کرد؟ (۲مورد کافی است)	۰/۵
۹	منطقه کوهستانی شمال کشور شامل چه کوهستان هایی است؟ ۴ مورد	۱
۱۰	بین تنگه منجیل و تنگه خوش ییلاق کدام رشته کوه قرار دارد؟	۰/۵
۱۱	سه عامل اصلی موثر بر آب و هوای ایران را نام ببرید؟	۱/۵
۱۲	مهم ترین عوامل ناشی از موقعیت جغرافیایی که بر آب و هوای کشور اثر دارد را نام ببرید؟ ۳ مورد	۰/۷۵
۱۳	عامل ایجاد بیابان لوت چیست؟	۰/۵
۱۴	ویژگی های رودهای ایران را بنویسید. ۴ مورد	۱
۱۵	انواع کانون های آبگیر را نام ببرید؟ ۳ مورد	۰/۷۵
۱۶	مهم ترین رودهایی که به خلیج فارس می ریزند را نام ببرید؟ ۴ مورد	۱
جغرافیای استان تهران		
۱۷	استان تهران به چه دلایلی یکی از مهمترین استان های کشور است؟ (۴مورد)	۱
۱۸	چرا بخش های مرکزی و جنوبی البرز برای کشاورزی مناسب است؟	۱
۱۹	انواع آب و هوای استان تهران را نام ببرید و مناطقی را از هر یک مثال بزنید؟	۱
۲۰	عوامل اصلی ایجاد بیابان در استان تهران را نام ببرید؟ (دومورد)	۱

سوالات نقشه ایران (۲نمره)




- ۱- یکی از کشورهای همسایه ایران :
- ۲- یکی از رودهای مرزی ایران :
- ۳- یکی از دریاچه های ایران :
- ۴- یکی از رشته کوههای ایران:
- ۵- یکی از جلگه های ایران:
- ۶- یکی از استانهای ایران :
- ۷- توده هوایی که از جنوب شرقی ایران می وزد:
- ۸- یکی از دشت های ایران :

سوالات نقشه استان تهران (۱نمره)



- ۱- نام یکی از استانهای اطراف استان تهران:
- ۲- نام یکی از شهرستانهای استان تهران:
- ۳- نام یکی از سد های استان تهران :
- ۴- نام دریاچه ای در جنوب استان تهران:

موفق و پیروز و سربلند باشید

محل مهر دبیرستان	بسمه تعالی دبیرستان پسرانه غیر دولتی باقرالعلوم (ع) آموزش و پرورش منطقه ۲ تهران		 مرکز پیش دانشگاهی و دبیرستان باقرالکسثوم	
	نام خانوادگی :	نام دبیر : آقای مقدم		نام کلاس : پایه دهم
		نام درس : جغرافیا	زمان : ۶۰ دقیقه	تاریخ : ۱۳۹۵/۱۰/۲۲

پاسخنامه آزمون

مقام معظم رهبری (مد الذله العالی) :

* جغرافیا یک جهان بینی صحیح است که مناسبات ما را با جهان اطرافمان و با این همه موجودات کوچک و بزرگ ، جاندار و بی جان روشن می نماید *

- ج ۱- بسیاری از فعالیت های انسان در جا و محل معینی انجام می شود . این جا و محل را مکان می نامند به طور مثال یک روستا را در نظر بگیرید که خاک و آب و سرمایه و نیروی انسانی آن برنوع اشتغال آن تاثیر می گذارد ۱نمره
- ج ۲- جغرافیا با دید ترکیبی یا کل نگری موضوعات را مورد بررسی قرار می دهد ۰/۵ نمره
- ج ۳- به نظر می رسد که وجود زمینه های مناسب اشتغال ، عامل افزایش جمعیت شهر X است ، یا به نظر می رسد وجود خدمات آموزشی ، درمانی و تفریحی ، عامل افزایش جمعیت شهر X است . ۱نمره
- ج ۴- پرسش نامه ، مصاحبه ، مشاهده ۰/۵ نمره
- ج ۵- در جنوب غرب آسیا ، زیرا در مجاورت خلیج فارس و تنگه هرمز قرار گرفته است ۱نمره
- ج ۶- ۱- نقش ارتباطی بین سه قاره آفریقا و اروپا و آسیا ۲- بزرگترین منبع انرژی جهان را داراست ۳- به دلیل درآمدهای نفتی کانون ثروتمندان جهان تبدیل شده است ۴- این منطقه دارای ارزش های فرهنگی و سیاسی است ۰/۵ نمره
- ج ۷- ۱- آبهای روان ۲- باد ۳- اختلاف دما ۱نمره
- ج ۸- ۱- تاریخچه زمین شناسی ، تحولات ناهمواری ها ، شکل و پراکندگی ۰/۵ نمره
- ج ۹- ۱- منطقه کوهستانی آذربایجان ۲- منطقه کوهستانی تالش ۳- منطقه کوهستانی البرز ۴- کوههای شمال خراسان ۱نمره
- ج ۱۰- البرز ۰/۵ نمره
- ج ۱۱- ۱- موقعیت جغرافیایی ۲- ارتفاع و جهت کوهستانها ۳- توده های هوا ۱/۵ نمره
- ج ۱۲- ۱- عرض جغرافیایی ۲- قرار گرفتن ایران در کمربند پرفشار جنب حاره ای ۳- نزدیکی به دریاها و دوری از آن و منابع رطوبتی ۰/۷۵ نمره
- ج ۱۳- پرفشار جنب حاره ای ۰/۵ نمره
- ج ۱۴- ۱- درایران بیشتر بارش ها در اواخر بهار رخ می دهد لذا آبدهی رودها بیشتر می شود ۲- هرچه از غرب به شرق کشور برویم مقدار آب رودها کمتر می شود ۳- رودهایی که از کوهستانهای بلند و برف گیر تغذیه می شوند دائمی هستند ۱نمره
- ج ۱۵- ۱- کانون های دائمی ۲- کانون های فصلی ۳- کانون های اتفاقی ۰/۷۵ نمره
- ج ۱۶- ۱- کارون ۲- کرخه ۳- دالکی ۴- مند ۱نمره
- پاسخ سوالات استان تهران
- ج ۱۷- ۱- مرکزیت سیاسی و اداری کشور ۲- تمرکز فعالیت های اقتصادی و صنعتی ۳- تراکم و تمرکز بالای جمعیت ۴- دسترسی به شبکه حمل و نقل و راههای ارتباطی ۵- تمرکز موسسات مالی و اعتباری و بانکی در تهران ۱نمره
- ج ۱۸- به سبب داشتن شیب ملایم و خاکهای آبرفتی
- ج ۱۹- ۱- کوهستانی (توچال و پالان گردن) ۲- کوهپایه ای (فیروز کوه و دماوند) ۳- بیابانی و نیمه بیابانی (ورامین و رباط کریم) ۱نمره
- ج ۲۰- ۱- عوامل طبیعی ۲- عوامل انسانی ۱نمره

***** پاسخ سوالات نقشه ایران و استان تهران *****

- جغرافیای ایران ۱- ترکمنستان ۲- اترک ۳- ارومیه ۴- زاگرس ۵- میناب ۶- سیستان و بلوچستان ۷- موسمی ۸- دشت کویر
- جغرافیای استان : ۱- سمنان ۲- ورامین ۳- سد لار ۴- مسیله قم

« موفق و پیروز و سربلند باشید »